

Geocaching

(Tour 4: Düren-Nord, Dauer: ca. 1,5 – 2h)

Als Parkmöglichkeit empfehlen wir die Parkplätze am Nordpark.

Gib folgende Koordinaten ein und begib Dich an den angegebenen Ort:

50°48.753'N 006°28.446'E

Station 1

Aufgabe 1:

Ganz in der Nähe findest Du eine große Skulptur. Worauf sitzt die Figur?

749: Laptop 691: Stuhl

Antwort: _ _ _ _ _

A = _ _ _

Aufgabe 2:

Das Haus für alle ist ein Treffpunkt für alle Generationen und Kulturen. Welches Nord-Dürener Gebäude befindet sich ganz rechts auf dem Schild vor dem Eingang?



408: St. Joachim Kirche

571: Bahnhof Düren

B = _ _ _

Füge die Zahlen in die entsprechenden Stellen ein und
gehe zur ermittelten Koordinate:

50°48.(A)'N 006°28.(B)'E

Ziel: 50°48.____ 'N 006°28.____'E

Station 2

Aufgabe 3:

Was findest Du über der Toreinfahrt (Nr. 21)?

	F				E			P	
8	5	3	8	9	5	2	4	0	1

Welche Zahlen entsprechen folgenden Buchstaben?

P= _

R= _

O= _

A= _ _ _

Aufgabe 4:

Hier sitzt die Firma Vossen und Söhne. Sie wurde um 1907 gegründet und wird bereits in vierter Generation betrieben. Um welche Art Handwerksbetrieb handelt es sich? Am Tor findest Du einen bildlichen Hinweis.

DSHIEEMC

6: Schmiede

8: Schneider

B= _

Aufgabe 5:

Auch optisch erkennst Du einen Unterschied zu den anderen Häusern. Das Haus wurde nach hinten versetzt. Was befand sich im Hof?

S K T R W E T A T

Antwort: _ _ _ _ _

11: Werkhallen 55: Werkküchen 27: Werkstatt

C = _ _

Füge die Zahlen in die entsprechenden Stellen ein und
gehe zur ermittelten Koordinate:

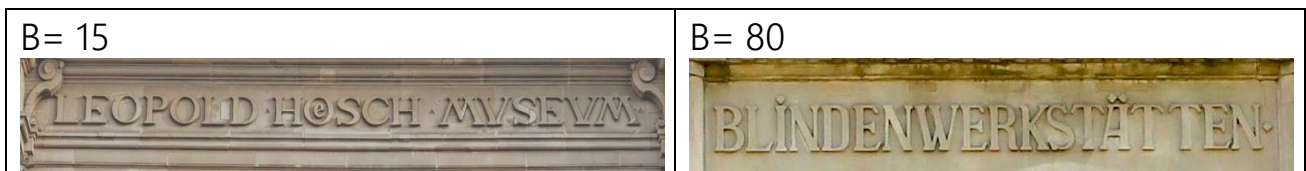
50°48.(A)'N 006°28.(B)(C)'E

Ziel: 50°48._ _ _ 'N 006°28._ _ _ 'E

Station 3

Aufgabe 6:

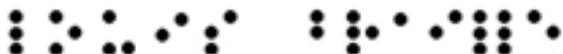
Düren gilt aufgrund seiner vielen Einrichtungen als Stadt der Blinden. Du stehst vor einem ehemaligen Gebäude. Worum handelte es sich?



A= _ _

Aufgabe 7:

Ganz in der Nähe wird seit 1876 die Blindenschule geführt. Ihr Namensgeber ist der Erfinder der Blindenschrift. Wie hieß er?



A •	B •	C ••	D ••	E ••	F ••	G ••
H ••	I ••	J ••	K ••	L ••	M ••	N ••
O ••	P ••	Q ••	R ••	S ••	T ••	U ••
V ••	W ••	X ••	Y ••	Z ••	Ä ••	Ö ••
Ü ••	ß ••					

Antwort: _ _ _ _ _

49: Rudolf Schenkel

67: Louis Braille

98: Friedrich Schoeller

B= _ _

Aufgabe 8:

Hier befindet sich das Internat für Blinde. Die Straße wurde nach dem ersten Direktor benannt. Wie hieß er mit Nachnamen?

1: Merker

0: Mecker

C= _

Zu den Dürener Einrichtungen für Blinde zählen das Rheinische Blindenheim, die Wohn- und Förderstätte für mehrfach schwerstbehinderte blinde Menschen, das Internat der Louis-Braille-Schule und das Berufsförderungswerk. Auch das Anna-Schoeller-Haus, das Ende 2016 abgerissen wurde, gehörte einmal dazu. An seine Stelle treten zwei neue Gebäuden für den Rheinischen Blindenfürsorgeverein. Der Rheinische Blindenfürsorgeverein engagiert sich seit über 125 Jahren für blinde Menschen in Düren und Umgebung.

Füge die Zahlen in die entsprechenden Stellen ein und
gehe zur ermittelten Koordinate:

50°48.7(A)'N 006°28.(B)(C)'E

Ziel: 50°48.7__'N 006°28.___'E

Station 4

Aufgabe 9:



Im Jahre 1895 wurde der Grundstein für
den Bau der St. Joachim Kirche gelegt. Wie
hieß der Kölner Architekt?

489: Heinrich Rösseler

759: Heinrich Krings

786: Heinrich Lauscher

Antwort: _ _ _ _ _

A= _ _ _

Aufgabe 10:

Die Kirche sollte ursprünglich dem heiligen *Josef* geweiht werden. Da aber in
Düren bereits eine Kapelle seinen Namen trug, entschied man sich für den hl.
Joachim als Namenspatron.

7: Josef

8: Jonas

B= _

Füge die Zahlen in die entsprechenden Stellen ein und
gehe zur ermittelten Koordinate:

50°48.(A)'N 006°28.(B)24'E

Ziel: 50°48. _ _ _ 'N 006°28. _ 24'E

Station 5

Aufgabe 11:

In vielen Gebäuden dieser Straße sind die
Eingangstüren das einzige ursprüngliche Detail in
der Fassade.

So auch bei den Häusern Nr.20 und Nr.22. Welche
Merkmale haben sie gemeinsam?

6: Eiche

5: Bunt

3: Aluminium

7: Fenster im Türflügel

9: Verglastes Oberlicht



Füge die Zahlen unten in der gleichen Reihenfolge ein:

A= _ _ _

Füge die Zahlen in die entsprechenden Stellen ein und gehe zur ermittelten
Koordinate:

50°48.(A)'N 006°28.710'E

Ziel: 50°48. _ _ _ 'N 006°28.710'E

Station 6

Aufgabe 12:

Du findest vor Haus Nr.9 auf dem Boden sogenannte Stolpersteine, die an die jüdischen Bewohner erinnern, die hier einst lebten. Wie viele Personen lebten hier?

53: zwei 63: sieben

A= _ _

Aufgabe 13:

Welche Art Laden führte die jüdische Familie Berlin, die früher im Haus Nr. 9 lebte?

שניט= und Obsthandlung:

- 4: Frucht- und Gemüsehandlung
- 5: Fleisch- und Fischhandlung
- 6: Frucht- und Getreidehandlung

B = _

א	ב	ו	ד	ה	ו	ז	ח	ט	י	כ	ל	מ
a	b	c	d	e	f	g	h	i	j	k	l	m
נ	ס	פ	צ	ק	ר	ש	ת	י	י	י	י	י
n	o	p	q	r	s	t	u	v	w	x	y	z
א	ב	ג	ד	ה	ו	ז	ח	ט	י	כ	ל	מ
A	B	C	D	E	F	G	H	I	J	K	L	M
נ	ס	פ	צ	ק	ר	ש	ת	י	י	י	י	י
N	O	P	Q	R	S	T	U	V	W	X	Y	Z

Füge die Zahlen in die entsprechenden Stellen ein und
gehe zur ermittelten Koordinate:

50°48.(A)6'N 006°28.71(B)'E

Ziel: 50°48._ _6'N 006°28.67 _'E

Station 7

Aufgabe 14:

Düren hatte viele Kinos. Das Eckhaus zwischen Alter und Neuer Jülicher Straße war das erste Kino, das nach dem Krieg wieder eröffnete. Wie hieß dieses Kino? Die Antwort findest Du im Morsecode.

```

.-. --- .-. -.
... .. -.. 0000 - 000 0-.. 00 0 0-.. 0

```

```

A .- B -... C -.. D -. E . F ...
G -- H .... I .. J ---- K -. L ...
M -- N - O --- P -.. Q --
R .. S ... T - U .. V ... W -
X -.. Y -.. Z --

```

Antwort: _ _ _ _ _

Welche Buchstaben kommen in der Antwort nicht vor?

44: Die Buchstaben U und A.

77: Die Buchstaben I und E.

A= _ _

Aufgabe 15:


Nord-Düren ist geprägt durch eine bunte Mischung an Nationen und Religionen. Die bunte Mauerfassade zeigt dies eindrucksvoll. Wie viele religiöse Institutionen sind auf dem mittleren Mauerbild (das, mit den Augenpaaren) dargestellt? Die gefundene Zahl ist gleichzeitig die Koordinate.

Antwort: _

B= _

Aufgabe 16:

In der Nähe wurden Figuren von der Drogen- und Jugendarbeit aufgestellt um Vandalismus zu verhindern. Eine der Figuren unterscheidet sich durch ein Merkmal von den anderen, was ist es?



C= _ _ _

Füge die Zahlen in die entsprechenden Stellen ein und gehe zur ermittelten Koordinate:

50°48.(A)5'N 006°(B)8.(C) 'E

Ziel: 50°48._ _5'N 006°_8._ _ _'E

Station 8

Aufgabe 17:

Dieses Symbol repräsentiert das friedliche Zusammenleben der Religionen. Wie heißen die drei Symbole, die für ihre Religion stehen?



Antwort: _ _ L _ _ O _ _

_ _ _ U _

D _ _ _ _ S _ _ _ _ N

Welcher Buchstabe kommt am häufigsten in der Antwort vor:

H= 750

D=429

Z=397

A= _ _ _

Aufgabe 18:

Wie heißen die beiden Künstler, die dieses Projekt ins Leben gerufen haben?

Gregor Meider

Antwort: _____

Carlmen D8ietrich

Antwort: _____

Lese die Namen und notiere dir die Zahlen in der entsprechenden Reihenfolge.

B= _ _ _

Aufgabe 19:

Dieses Symbol heißt es „Engel der Kulturen“. Warum? Sieh Dir das Innenmotiv an. Das Multikulti-Haus auf Deiner Linken liefert Dir auch einen Hinweis.

Wusstest Du, dass das Kunstobjekt im Oktober 2013 durch Düren gerollt wurde? Vertreter der verschiedenen Glaubensgemeinschaften beteiligten sich an der Aktion und Menschen jeder Altersklasse und Herkunft schlossen sich dem Weg an. Unter einer feierlichen Zeremonie erhielt das Denkmal seinen dauerhaften Platz am 27.09.2014 auf dem Rudolf-Schock Platz. Der Platz wurde aufgrund seiner zentralen Begegnungsstätte von dem Künstlerpaar aus Burscheid ausgewählt. Ziel soll die Förderung des interkulturellen Dialogs sein.

Füge die Zahlen in die entsprechenden Stellen ein und
gehe zur ermittelten Koordinate:

50°48.(A)'N 006°28.(B)'E

Ziel: 50°48.____'N 006°28.____'E

Station 9

Aufgabe 20:

Dürens Norden wird im lokalen Sprachgebrauch auch „Henge de Bahn“ genannt, was ist damit gemeint?

44: Es bedeutet „Hinter der Bahn“ und meint die Abgrenzung des Stadtteils von der Innenstadt durch die Bahnlinie.

86: Es bedeutet „Hänger an die Bahn“ und verweist auf die große Produktion von Eisenbahnanhängern in Nord-Düren.

Lösung: _ _ _ _ _ _ _ _ _ _

A= _ _

Aufgabe 21:

Auf dem umzäunten Gelände befindet sich ein altes Rokoko-Gartenhäuschen aus dem 18. Jahrhundert. Wozu diente dieses wohl einst?

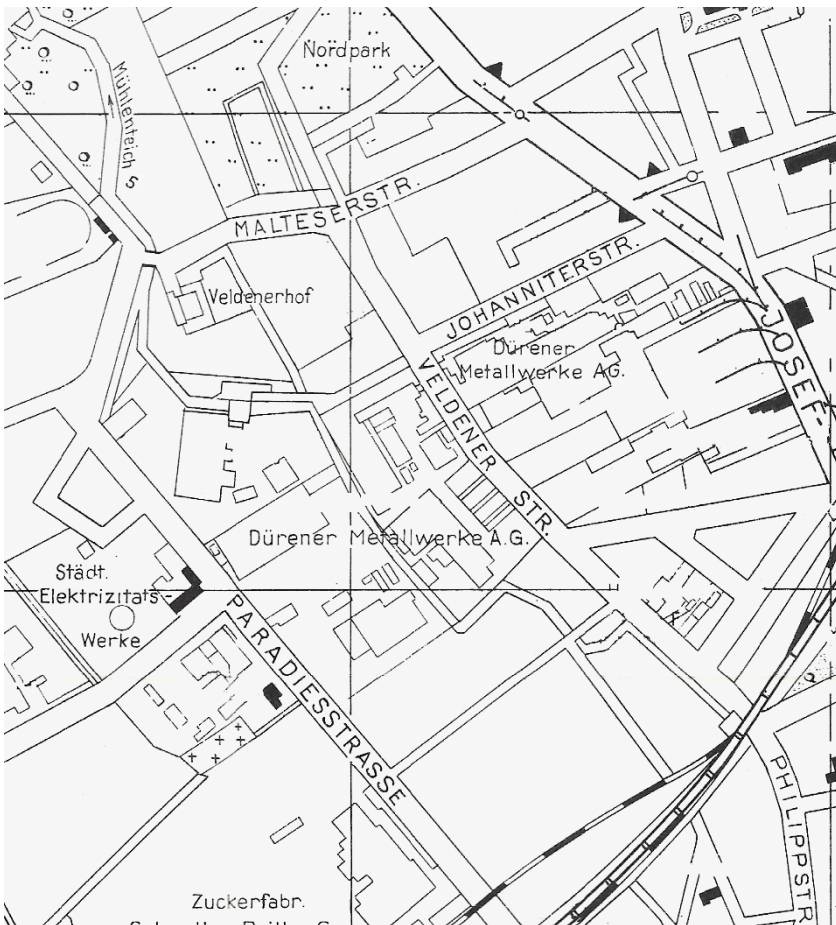
*Landwirtschaftliche
Nutzung*

u	b	r	d	n	f	g	j	i	j	k	l	m
a	b	c	d	e	f	g	h	i	j	k	l	m
n	o	p	q	r	s	t	u	v	w	x	y	z
n	o	p	q	r	s	t	u	v	w	x	y	z
A	B	C	D	E	F	G	H	I	J	K	L	M
A	B	C	D	E	F	G	H	I	J	K	L	M
N	O	P	Q	R	S	T	U	V	W	X	Y	Z
N	O	P	Q	R	S	T	U	V	W	X	Y	Z

- 47: Naherholung Adliger
- 59: Landwirtschaftliche Nutzung

B= __

Aufgabe 22:



Im Norden Dürens siedelten sich im 19. Jh. viele Industriebetriebe an. Sie machten sich die Wasserkraft zu Nutze. Welcher Teich lieferte diese?

Die Teilkoordinate (C) findest Du neben der richtigen Antwort.

Antwort: -----

C= _

Füge die Zahlen in die entsprechenden Stellen ein und
gehe zur ermittelten Koordinate:

50°48.(A)2'N 006°28.(B)(C)'E

Ziel: 50°48._ _2'N 006°28._ _ _'E

Station 10

Aufgabe 23:

Die Industriebetriebe nutzten zum Warentransport
damals die innerstädtischen Gleise der Dürener
Eisenbahn AG. Du stehst vor Gleisresten eines
Privatanschlusses.



Wann wurde die Eisenbahnstrecke zwischen Düren
und Birkesdorf eröffnet? Übertrage die römischen
Zahlen in Arabische.

Antwort: Im Jahre M D C C C XC III

59: Im Jahr 1893

47: Im Jahr 1903

63: Im Jahr 1873

römisches Zeichen	I	V	X	L	C	D	M	XC
arabisches Zeichen	1	5	10	50	100	500	1000	90

A= _ _

Das Stadtgebiet des heutigen Nord-Düren wird im 19. Jahrhundert
erschlossen, da die Stadt schnell wuchs und neuer Wohnraum dringend
benötigt wurde.

Füge die Zahlen in die entsprechenden Stellen ein und gehe zur
ermittelten Koordinate:

50°48.5(A)'N 006°28.463'E

Ziel: 50°48.5_ _'N 006°28.463'E

Station 11

Aufgabe 24:

Auf der rechten Straßenseite sieht man die Fassade eines ehemaligen Industriegebäudes. Den alten Schriftzug kann man noch erahnen. Um welche Dürener Firma handelte es sich?



1. Dürener Zuckerfabrik
2. Dürener Metallwerke

Antwort: _ _ _ _ _

Zähle die Buchstaben und subtrahiere davon 8. A = _ _

Aufgabe 25:

Das gegenüberliegende Gebäude gehörte auch zur Fabrik.
Seit 1977 befindet sich dort die größte der Dürener Moscheen.
Zu welchem Verband gehört diese Moschee?

369: IGMG

492: DITIB

B = _ _ _

Füge die Zahlen in die entsprechenden Stellen ein und
gehe zur ermittelten Koordinate:

50°48.6(A)'N 006°28.(B)'E

Ziel: 50°48.6_ _'N 006°28._ _ _'E

Station 12

Aufgabe 26:

Einige von Dürens Straßennamen, so wie dieser, erinnern an die Johanniter.
Der katholische Zweig der Johanniter (Malteser) erhielt um 1530 von Kaiser
Karl V. eine Insel geschenkt, nach der sich der Zweig benannt hat. Wie heißt
die Insel?

Antwort: _ _ _ _ _

Welcher Buchstabe kommt in der Antwort vor?

459: Buchstabe Y

876: Buchstabe I

714: Buchstabe A



A= _ _ _

Aufgabe 27:

Vervollständige den Text und schreibe die Koordinaten nacheinander auf.

In dieser Straße wurden die Häuser überwiegend ungeplant an der Straße
entlang gebaut. Die Häuserzüge wirken unruhig durch die unterschiedliche
_____ der Häuser. Auch gibt es zwischen den Häusern viele _____.

6: Kanten

9: Höhe

3: Gärten

8: Lücken

B= _ _

Wusstest Du, dass die Johanniter eine katholische Ordensgemeinschaft sind? Sie haben sich im 11. Jahrhundert in Jerusalem gegründet. Der Orden unterstützt weltweit Kranke, Behinderte und Flüchtlinge unabhängig ihres Glaubens durch karitative Projekte. Zu dem Orden zählen 13.500 Mitglieder, seinen Hauptsitz hat er heute in Rom.

Füge die Zahlen in die entsprechenden Stellen ein und gehe zur ermittelten Koordinate:

50°48.(A)'N 006°28.4(B)'E

Ziel: 50°48. _ _ _ 'N 006°28.4 _ _ 'E

Folgt dem Kompass wie es die Straße erlaubt.

Station 13

Aufgabe 28:

Die Häuser hier vereinen architektonische Stilelemente verschiedener Epochen. Welche drei Epochen wurden bei der Fassadengestaltung der Häuser dieser Straße aufgegriffen?

7: Renaissance
3: Klassizismus
9: Gotik
5: Barock

a	p	w	i	q	e	t	r	c	h	n
e	c	n	a	s	s	i	a	n	e	r
r	w	b	k	n	a	o	c	g	s	u
r	k	c	o	r	a	b	i	s	p	m
p	a	i	n	j	f	q	g	f	o	q
h	m	y	v	j	e	n	o	l	w	w
h	j	u	y	b	b	q	f	f	g	r
h	z	g	b	d	q	y	l	t	o	f
z	w	z	v	s	b	q	j	n	t	x
i	f	t	r	s	t	j	r	i	i	q
l	m	n	i	l	m	y	b	l	k	j

Streiche die falsche Antwort durch und schreibe die Zahlen der Reihenfolge von oben nach unten auf.

A = _ _ _

Aufgabe 29:

Im welchen Jahr wurde das Gebäude Nr.11
errichtet?

75: 1902

93: 1886



B= _ _

Füge die Zahlen in die entsprechenden Stellen ein und
gehe zur ermittelten Koordinate:

$50^{\circ}48.(A)'N\ 006^{\circ}28.3(B)'E$

Ziel: $50^{\circ}48. _ _ _ 'N\ 006^{\circ}28.3 _ _ 'E$